

Nombre del estudiante

Grupo

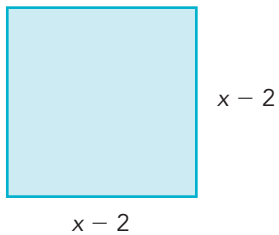
Fecha

Problemas adicionales

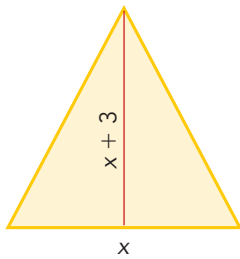
Área de figuras geométricas

Calcula el área de las siguientes figuras geométricas.

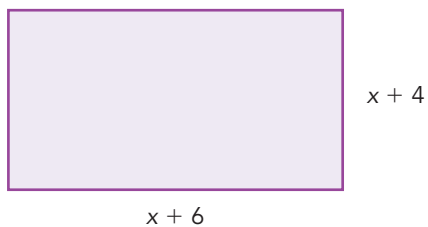
1.



2.



3.



4.

